

## ПОЛЕЗНЫЕ СОВЕТЫ

### Молекулярная физика. Термодинамика

Приступая к решению задач по этим темам, постарайся довести до автоматизма выполнение следующих стандартных операций:

- Нахождение молярной массы:

$$M = M_r \cdot 10^{-3} \text{ кг/моль}$$

$$\begin{aligned} M(\text{H}_2\text{NO}_3) &= (21 + 14 + 3 \cdot 16) \cdot 10^{-3} \text{ кг/моль} = \\ &= 64 \cdot 10^{-3} \text{ кг/моль} \end{aligned}$$

**ЗАПОМНИ:**  $M(\text{воздуха}) = 29 \cdot 10^{-3} \text{ кг/моль}$

- Переход от шкалы Цельсия к шкале Кельвина и наоборот:

$$T = t^\circ + 273$$

При этом  $\Delta T = \Delta t^\circ$ .

$$20^\circ\text{C} = (20 + 273) \text{ K} = 293 \text{ K}$$

$$300 \text{ K} = (300 - 273)^\circ\text{C} = 27^\circ\text{C}$$

Но: если  $\Delta t^\circ = 20^\circ\text{C}$ , то и  $\Delta T = 20 \text{ K}$ .

- Оперирование различными единицами объема, площади, давления:

$$1 \text{ л} = 10^{-3} \text{ м}^3$$

$$1 \text{ см}^3 = (1 \text{ см})^3 = (10^{-2} \text{ м})^3 = 10^{-6} \text{ м}^3$$

$$1 \text{ мм}^2 = (1 \text{ мм})^2 = (10^{-3} \text{ м})^2 = 10^{-6} \text{ м}^2$$

$$1 \text{ атм} = 10^5 \text{ Па}$$

$$1 \text{ мм рт ст} = 133,1 \text{ Па}$$

В задачах часто встречается словосочетание «нормальные условия». На языке цифр это значит:

$$p = p_{\text{атм нормальное}} = 760 \text{ мм рт ст} = 10^5 \text{ Па}$$

$$T = 0^\circ\text{C} = 273 \text{ K}$$

Комнатной считается температура:  $T = 20^\circ\text{C} = 293\text{ K}$

Имей в виду, что средняя скорость и средняя квадратичная скорость — это не одно и то же:

$$\bar{v} = \frac{v_1 + v_2 + \dots + v_N}{N}$$

$$\bar{v}_{\text{кв}} = \sqrt{\bar{v}^2} = \sqrt{\frac{v_1^2 + v_2^2 + \dots + v_N^2}{N}}$$

В записи краткого условия в задачах, связанных со скоростью движения молекул, часто можно увидеть, например:

$$\bar{v} = 500\text{ м/с}$$

При этом имеется в виду средняя квадратичная скорость движения молекул, т.е. ее квадрат равен среднему квадрату скорости. Поэтому полезно ставить внизу индекс ( $\bar{v}_{\text{кв}}$ ).

Средняя кинетическая энергия движения молекулы в идеальном газе равна:

$$\bar{E} = \frac{3}{2} kT$$

Средняя квадратичная скорость движения молекулы рассчитывается по формуле:

$$\bar{v}_{\text{кв}} = \sqrt{\frac{3kT}{m_0}}$$

При этом:

$$m_0 = \frac{M}{N_A}$$

Полезно помнить, что если макроскопическое тело, взвешенное в газе, например, броуновская частица, находится с газом в состоянии теплового равновесия, то их средние кинетические энергии одинаковы:

$$\bar{E} = \bar{E}_\text{ч} = \frac{3}{2} kT$$

Следовательно, среднюю квадратичную скорость броуновской частицы тоже можно рассчитывать по формуле:

$$\bar{v}_{\text{ч,кв}} = \sqrt{\frac{3kT}{m_\text{ч}}}$$

Но, массу частицы придется находить через 2 закон Ньютона, рассмотрев силы, действующие на броуновскую частицу в газе.

Приступая к решению задач по теме «Уравнение состояния идеального газа. Газовые законы»:

- Убедись, что к газам, рассматриваемым в задаче, применима модель идеального газа.
- Выясни, во-первых, сколько газов рассматривается и какие это газы, во-вторых, рассматривается одно состояние системы или есть процесс, то есть переход из одного состояния в другое.

- › Если состояние газа не меняется, то просто применяй уравнение Менделеева-Клапейрона:

$$pV = \frac{m}{M} RT$$

Иногда бывает необходимо учесть, что  $m = \rho V$ , тогда это уравнение записывается в виде:  $p = \rho RT/M$ .

Определись с тем, какие величины тебе известны, и реши уравнение относительно неизвестной величины. При этом полезно помнить, что:

$$\frac{m}{M} = \nu = \frac{N}{N_A} = \frac{V}{V_{\text{моля}}}$$

- › Если состояние газа меняется, но при этом не меняется масса и химический состав газа, то лучше пользоваться уравнением Клапейрона:

$$\frac{p_1 V_1}{T_1} = \frac{p_2 V_2}{T_2}$$

При этом обязательно следует сделать чертёж, для каждого из состояний отдельно записать всю информацию о давлении, температуре и объеме. В качестве дополнительных уравнений здесь часто выступают уравнения связи между геометрическими параметрами сосудов, заполняемых газом в разных состояниях. (Помни, что система уравнений решается, если число уравнений равно числу неизвестных величин.)

Реши систему получившихся уравнений относительно неизвестной величины.

Обрати внимание, что, если помимо массы и химического состава сохраняется один из параметров состояния, мы легко получаем из уравнения Клапейрона уравнения изопроцессов:

$$T = \text{const} \Rightarrow p_1 V_1 = p_2 V_2$$

$$V = \text{const} \Rightarrow \frac{p_1}{T_1} = \frac{p_2}{T_2}$$

$$p = \text{const} \Rightarrow \frac{V_1}{T_1} = \frac{V_2}{T_2}$$

(смотри задачу 2 из раздела «Примеры решения задач по теме «МКТ и термодинамика»)

- > Если же меняется масса и химический состав, или и то, и другое, то применяется то же алгоритм действий, что и в предыдущем случае, только для каждого из состояний записывается уравнение Менделеева-Клапейрона. Получается система уравнений, которая впоследствии решается:

$$p_1 V_1 = \frac{m_1}{M_1} RT_1$$

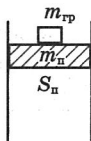
$$p_2 V_2 = \frac{m_2}{M_2} RT_2$$

(смотри задачу 1 из раздела «Примеры решения задач по теме «МКТ и термодинамика»)

В конце решения не забудь проверить результат, во-первых, проведя действия с наименованиями, во-вторых, оценив числовое значение ответа с точки зрения «здравого смысла»

- > При решении большого спектра задач ключевым моментом является определение по описанию физической ситуации давления газа в том или ином состоянии. Главным ориентиром при этом может служить следующее соображение: если система находится в равновесии, то  $p_{\text{газа}} = p_{\text{внешнему}}$ . Следовательно, необходимо разобраться, за счет каких факторов создается внешнее давление.

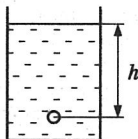
Например, газ находится под поршнем, на поршень положен груз.



В этом случае давление газа уравнивает давление атмосферы, поршня и груза:

$$p_{г} = \frac{(m_{гр} + m_{п})g}{S_{п}} + p_{атм}$$

Например, пузырек с газом находится на глубине  $h$  под водой.



В этом случае давление газа уравнивает давление атмосферы и столба жидкости:

$$p_{г} = \rho_{ж}gh + p_{атм}$$

- > **Будь осторожен с газом, «запертым» в воде.** Ведь с поверхности воды идет испарение и пар в замкнутом пространстве становится насыщенным. Давлением насыщенного водяного пара часто можно пренебречь по сравнению, например, с атмосферным давлением или гидростатическим. Но так бывает не всегда. Например, при температурах, близких к  $100^{\circ}\text{C}$ , давление насыщенного пара приближается к нормальному атмосферному.
- > **Имейте в виду, что для водяного пара, содержащегося в атмосфере, можно применять уравнение Менделеева-Клапейрона.** Если масса пара не меняется, то можно использовать уравнения изопроцессов. Давление же влажного воздуха складывается из парциального давления водяного пара и давления «сухого» воздуха.

$$p_{\text{пара}} V = \frac{m_{\text{пара}}}{M_{\text{воды}}} RT$$

где  $p_{\text{пара}}$  — парциальное давление водяного пара.

- › Если в сосуде находится смесь газов, то необходимо воспользоваться законом Дальтона, который заключается в том, что давление смеси газов равно сумме их парциальных давлений, т.е.:

$$p_{\text{смеси}} = p_1 + p_2$$

Дополнительно, можно учесть, что:  $m_{\text{смеси}} = m_1 + m_2$ ,  $T$  и  $V$  одинаковы.

Постарайся самостоятельно получить результат для молярной массы смеси газов:

$$M_{\text{смеси}} = \frac{m_1 + m_2}{\left( \frac{m_1}{M_1} + \frac{m_2}{M_2} \right)}$$

- › Существует стереотипное заблуждение, что в состоянии теплового равновесия, средние квадратичные скорости молекул разных газов одинаковы. Это не верно! В состоянии теплового равновесия (при одинаковых температурах) равны средние кинетические энергии молекул. Таким образом:

$$\overline{E}_1 = \overline{E}_2 = \dots = \overline{E}_n$$

Но:

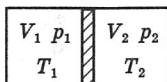
$$\overline{v}_1^2 \neq \overline{v}_2^2 \neq \dots \neq \overline{v}_n^2$$

Связь средней кинетической энергии со средней квадратичной скоростью молекул выражается формулой

$$\overline{E} = \frac{m_0 \overline{v}^2}{2}$$

Поскольку массы молекул разные, то и средние квадратичные скорости тоже разные.

Особый класс задач представляют собой задачи, где газы находятся в цилиндре, разделенном перегородкой.



Рассмотрим несколько случаев:

**1. Цилиндр разделен неподвижной непрозрачной перегородкой.** В этом случае ключевым становится вопрос теплообмена. Если теплообмена нет, то каждая часть цилиндра рассматривается как отдельная система. Если теплообмен есть, то в конце процесса система оказывается в состоянии теплового равновесия.

Тогда при решении задачи скорее всего надо будет воспользоваться законом сохранения энергии в том или ином виде. Например:

$$N_1 \bar{E}_1 + N_2 \bar{E}_2 = (N_1 + N_2) \bar{E}$$

или

$$U_1 + U_2 = U$$

**2. Цилиндр разделен подвижной непрозрачной перегородкой.** В этом случае, как правило, перегородка оказывается теплонепроницаемой. Тогда, после изменения одного из параметров, равновесие восстановится при равенстве давлений газа на перегородку слева и справа.

Перегорodka в равновесии, когда:

$$p_1 = p_2$$

**3. Цилиндр разделен неподвижной полупрозрачной перегородкой.** В этом случае, как правило, в разных частях цилиндра содержатся разные газы. Тогда для каких-то из них перегородка прозрачна, а для остальных нет.

Пусть, например, слева от перегородки находится аргон, а справа гелий, и перегородка прозрачна для аргона. Тогда в конце процесса слева от перегородки будет только аргон, а справа — смесь аргона и гелия.

$$\text{Слева: } p_{\text{Ar}} = \frac{m_{\text{Ar}} RT}{M_{\text{Ar}} (V_1 + V_2)}$$

$$\text{Справа: } p_{\text{Ar}} + p_{\text{He}} = p_{\text{Ar}} + \frac{m_{\text{He}} RT}{M_{\text{He}} V_2}$$

**ВНИМАНИЕ!** Если в такой задаче требуется найти установившуюся температуру, решать ее надо через закон сохранения энергии:

$$N_1 \bar{E}_1 + N_2 \bar{E}_2 = (N_1 + N_2) \bar{E}$$

4. В ходе процесса перегорodka разрушается или ее убирают. Тогда каждый из газов в конце процесса занимает весь цилиндр. Давление смеси газов находится по закону Дальтона.

В конце процесса:

$$p = \frac{(m_1 + m_2)RT}{M_{\text{смеси}}(V_1 + V_2)}$$

**ВНИМАНИЕ!** Если в такой задаче требуется найти установившуюся температуру, решать ее надо через закон сохранения энергии:

$$N_1 \bar{E}_1 + N_2 \bar{E}_2 = (N_1 + N_2) \bar{E}$$

Традиционно вызывают трудности задачи, связанные с нагнетанием и откачиванием воздуха с помощью насоса. Разберем две эти ситуации.

**Нагнетание воздуха:**

Один цикл: Рабочая камера насоса объемом  $V$  соединяется с атмосферой и заполняется воздухом при атмосферном давлении  $p_0$ . Тогда уравнение состояния для воздуха в камере  $p_0 V = \nu RT$  и количество молей воздуха в камере равно

$$\nu = \frac{p_0 V}{RT}$$

После этого камера отсоединяется от атмосферы и соединяется с сосудом объемом  $V_0$ , уже содержащим  $\nu_0$  молей воздуха при атмосферном давлении. Уравнение состояния для сосуда:  $p_0 V_0 = \nu_0 RT$ , соответственно:

$$\nu_0 = \frac{p_0 V_0}{RT}$$

После  $N$  качаний в сосуде будет содержаться  $\nu_N$  молей воздуха:  $\nu_N = \nu_0 + N\nu$

**Откачивание воздуха:**

Один цикл: Количество молей воздуха при атмосферном давлении  $p_0$  в сосуде объемом  $V_0$  перед началом откачивания:

$$\nu_0 = \frac{p_0 V_0}{RT}$$



При откачивании сосуд соединяют с рабочей камерой объемом  $V$ . При этом имеющийся в сосуде воздух распределяется между сосудом и рабочей камерой:

$$p(V + V_0) = \nu_0 RT$$

Устанавливается давление

$$p = \frac{\nu_0 RT}{V + V_0}$$

После этого рабочая камера отсоединяется от сосуда и находящийся в ней воздух под давлением  $p$  выходит в атмосферу. После первого качания в сосуде останется  $\nu$  молей воздуха:

$$\nu = \frac{pV_0}{RT} = \frac{\nu_0 RT V_0}{(V + V_0) RT} = \frac{\nu_0 V_0}{V + V_0}$$

Через  $N$  качаний:

$$\nu_N = \nu_0 \left( \frac{V_0}{V + V_0} \right)^N$$

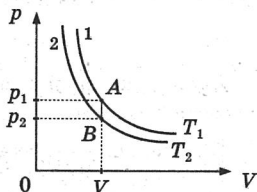
В рамках данной темы существует целый блок задач, связанный с построением примерных графиков изопроцессов в разных координатах. Ход рассуждений при выполнении подобных упражнений представлен в задаче 3 из раздела «Примеры решения задач по теме «МКТ и термодинамика». Сделаем несколько дополнительных замечаний. Часто при проведении рассуждений необходимо сравнивать две изобары или две изохоры.

#### ПРИМЕР 1: Сравнение температур двух изотерм

Т.к.  $p_1 > p_2$  (по графику), а по закону Шарля (AB — изохора):

$$\frac{p_1}{p_2} = \frac{T_1}{T_2}$$

то  $T_1 > T_2$ .



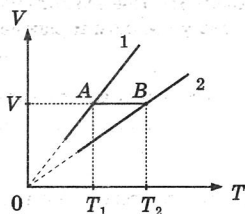
Чем выше температура, тем выше на графике соответствующая ей изотерма.

**ПРИМЕР 2:** Сравнение давлений двух изобар.

Т.к.  $T_1 < T_2$  (по графику), а по закону Гей-Люссака (AB — изохора):

$$\frac{p_1}{p_2} = \frac{T_1}{T_2}$$

то  $V_1 < V_2$ .



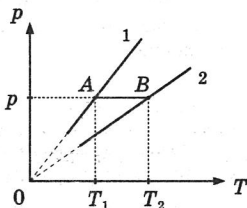
Чем больше давление, тем ниже на графике соответствующая ему изобара.

**ПРИМЕР 3:** Сравнение объемов двух изохор.

Т.к.  $T_1 < T_2$  (по графику), а по закону Гей-Люссака (AB — изобара)

$$\frac{V_1}{V_2} = \frac{T_1}{T_2}$$

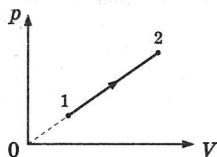
то  $V_1 < V_2$ .



Чем больше объем, тем ниже на графике соответствующая ему изохора.

**ПРИМЕР 4:** Сравнение термодинамических параметров двух точек графика процесса, не являющегося изопроцессом.

Не представляет труда сравнить по графику давление и объем для крайних состояний:  $p_2 > p_1$ ,  $V_2 > V_1$ . Для сравнения температур мысленно проведем через точки 1 и 2 изотермы и воспользуемся правилом, сформулированным ранее: Чем выше температура, тем выше лежит изотерма.



Следовательно,  $T_2 > T_1$ .

При решении задач в рамках темы «Термодинамика» надо отдавать себе отчет в том, что формулы для расчета внутренней энергии и работы газа имеют разные границы применимости:

$$U = \frac{3}{2} \frac{m}{M} RT = \frac{3}{2} pV$$

— только для идеального одноатомного газа;

$$U = \frac{5}{2} \frac{m}{M} RT = \frac{5}{2} pV$$

— только для идеального двухатомного газа;

$$A' = p\Delta V$$

— для любого газа при постоянном давлении.

Не забудь, что  $A'$  и  $A$  — это не одно и то же:  $A'$  — работа самого газа,  $A$  — работа над газом. При этом справедливо соотношение:

$$A' = -A$$

Задачи об изменении внутренней энергии тел можно условно разделить на три группы.

**В ЗАДАЧАХ ПЕРВОЙ ГРУППЫ** рассматриваются теплоизолированные системы тел. При этом работа над внешними телами термодинамической системой не совершается. Это так называемые задачи на теплообмен между телами входящими в замкнутую систему. Ключом к решению задач на теплообмен является уравнение теплового баланса:  $Q_1 + Q_2 + \dots + Q_N = 0$ . Решение задачи начинается с выяснения, какие процессы происходят с телами, входящими в замкнутую термодинамическую систему, при теплообмене. *Сколько процессов — столько и слагаемых в уравнении теплового баланса!*

При этом алгебраическая сумма может быть равна нулю только в том случае, если часть слагаемых положительна, а часть — отрицательна.

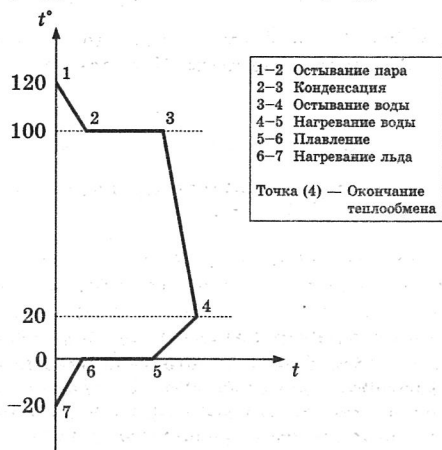
#### ПОМНИ:

$Q > 0$  при нагревании, плавлении, испарении, т.е. во всех случаях, когда происходит поглощение теплоты.

$Q < 0$  при охлаждении, кристаллизации, конденсации, т.е. во всех случаях, когда происходит выделение теплоты. При записи формулы  $Q = cm(t_2^0 - t_1^0)$  для описания процессов нагревания и охлаждения в уравнении теплового баланса всегда из конечной температуры вычитается начальная. В этом случае знак «+» или «-» получается автоматически. Другие формулы подставляются в уравнение теплового баланса с соответствующим знаком. Например:  $Q = \lambda m$  при плавлении и  $Q = -\lambda m$  при кристаллизации.

Если теплообмен сопровождается изменением агрегатных состояний, чтобы не забыть описать какой-либо из процессов, полезно построить примерный график зависимости температуры от времени.

Например, мы смешиваем пар при температуре  $120^\circ\text{C}$  и лед при температуре  $-20^\circ\text{C}$ . Конечная температура смеси  $20^\circ\text{C}$ .



Количество процессов — 6, соответственно, количество слагаемых в уравнении теплового баланса тоже 6: три отрицательных и три положительных.

Если в подобных ситуациях не ясно, что должно получиться, т.е. не известна конечная температура и агрегатное состояние, сначала делают прикидку: вычисляют по отдельности количества теплоты, необходимые для каждого из процессов и смотрят, на какие процессы, происходящие с «нагревающими-

ся» телами, хватает теплоты, выделяемой телами «остывающими». И только определившись, в каком агрегатном состоянии будут тела в конце теплообмена, применяют уравнение теплового баланса.

Вы заметили, что обычно строятся графики зависимости  $t^\circ$  от  $t$ , хотя, опираясь на формулы, следовало бы по горизонтальной оси откладывать  $Q$ . Такая замена возможна только при условии, что скорость теплообмена постоянна. Обычно, это подразумевается. При наличии внешнего нагревателя, как правило, считается, что он имеет постоянную мощность.

На этом замечании основано решение задач, включающих в себя временной фактор теплообмена. Например, если при использовании одного и того же нагревателя, тело сначала нагрели в течение времени  $t_1$ , а потом расплавили в течение времени  $t_2$ , постоянство мощности нагревателя позволяет написать следующее соотношение:

$$\frac{cm\Delta t^0}{t_1} = \frac{\lambda m}{t_2}$$

В задачах на КПД теплообмена следует различать:

$$КПД = \frac{Q_{\text{полученное}}}{Q_{\text{отданное}}} 100\%$$

и

$$Q_{\text{потерь}} = Q_{\text{полученное}} - Q_{\text{отданное}}$$

**В ЗАДАЧАХ ВТОРОЙ ГРУППЫ** рассматривают явления, связанные с превращением одного вида энергии в другой при взаимодействии двух тел. Результат такого взаимодействия — изменение внутренней энергии одного тела вследствие совершенной им или над ним работы. При решении данного вида задач, как правило, рассматривается КПД процесса. Именно с записи формулы для КПД и следует начинать решение данного типа задач.

$$а) \quad КПД = \frac{A}{\Delta U} 100\%$$

— если работа совершается за счет уменьшения внутренней энергии одного из тел: часть внутренней энергии идет на совершение работы.

$$б) \text{ КПД} = \frac{\Delta U}{A} 100\%$$

— если внутренняя энергия тела увеличивается за счет работы, совершенной над телом.

При расчете  $\Delta U$  используются, как правило, формулы для расчета  $Q$  при сгорании топлива, а также при нагревании и агрегатных превращениях.

При расчете  $A$  чаще всего используются формулы:

$A = FS$  — например, за счет сгорания топлива автомобиль совершает перемещение;

$A = Nt$  — например, за счет внутренней энергии нагретого пара механическое устройство развивает некоторую мощность;

$A = E_{k2} - E_{k1}$  — например, при нагревании тела в ходе торможения.

**В ЗАДАЧАХ ТРЕТЬЕЙ ГРУППЫ** рассматривается взаимодействие, в ходе которого термодинамическая система получает или отдает некоторое количество теплоты, совершая при этом работу. Для решения данного типа задач записывается первое начало термодинамики:

$$Q = \Delta U + A'$$

**Полезно помнить, что:**

- Если система получает теплоту  $Q > 0$ , если система отдает теплоту окружающим телам  $Q < 0$ .
- Если объем системы увеличивается  $A' > 0$ , если объем системы уменьшается  $A' < 0$ .
- Если температура системы увеличивается  $\Delta U > 0$ , если температура системы уменьшается  $\Delta U < 0$ .

Часто при решении данной группы задач рассматриваются изопроцессы в газах. Поэтому полезно научиться записывать первое начало термодинамики применительно к изопроцессам.

**Изотермический:**

$$T = \text{const} \Rightarrow \Delta T = 0 \Rightarrow \Delta U = 0 \Rightarrow Q = A'$$

Изохорный:

$$V = \text{const} \Rightarrow A' = 0 \Rightarrow Q = \Delta U$$

Изобарный:

$$p = \text{const} \Rightarrow Q = \Delta U + A'$$

Адиабатный:

$$Q = 0 \Rightarrow \Delta U = -A'$$

Начинать решать задачи, связанные с КПД теплового двигателя, следует с выяснения, является ли двигатель реальным или идеальным. Полезно при этом помнить, что формула:

$$\text{КПД} = \frac{A'}{Q_H} \cdot 100\%$$

является универсальной для любой тепловой машины.

**НЕ ЗАБУДЬ:**

Формула

$$\text{КПД} = \frac{T_H - T_X}{T_H} \cdot 100\%$$

справедлива только для идеальной тепловой машины.

Формула

$$\text{КПД} = \frac{Q_H - Q_X}{Q_H} \cdot 100\%$$

справедлива и для идеальной, и для реальной тепловой машины.